


Leerdoel: ik leer de relatie tussen een aantal breuken, verhoudingen, procenten en kommagetallen.



$\frac{1}{5}$	20%	0,2	1 op 5
---------------	-----	-----	--------

Opdracht 1:



Check de bijbehorende video op onderstaande link:



<https://youtu.be/RapuVrBUbw0>

Opdracht 2: Maak onderstaand schema compleet


Breuk	Verhouding	Kommagetal	Percentage
$\frac{1}{5}$			
	1:4		
		0,33	
			10%
	1:8		
			50%
		0,75	

	3:10		
--	------	--	--

Opdracht 3: Doe nu zelf de 'Pancake Challenge'.

Challenge 1: 'Bak' (teken) een heerlijke pannenkoek met regenboogkleuren. Let op de aanwijzingen.


Aanwijzingen: **breuk:** $1/1$ **kommagetal:** 1,0 **Procent:** 100% **Verhouding:** 1:1



Challenge 2: 'Bak' (teken) een pannenkoek met kleine driehoekjes. Let op de aanwijzingen.


Aanwijzingen: **breuk:** $2/3$ **kommagetal:** 0,67 **Procent:** 66,7% **Verhouding:** 2:3

TIP: Kleur eerst $\frac{1}{3}$ en ga daarna door met $\frac{2}{3}$.




Challenge 3: 'Bak' (teken) een pannenkoek met kleine badeendjes. Let op de aanwijzingen.

Aanwijzingen: **breuk:** $4/10$ **kommagetal:** $0,40$ **Procent:** 40% **Verhouding:** $4:10$



Challenge 4: 'Bak' (teken) een pannenkoek waarin je jouw eigen creativiteit uit.

Aanwijzingen: **breuk:** $1/4$ **kommagetal:** $0,25$ **Procent:** 25% **Verhouding:** $1:4$



Evaluatie:

Hoe ver ben je gekomen met het leerdoel van deze les? Zet een rondje om het juiste poppetje.

 <p>Vet moeilijk dit! Ik begrijp het nog niet helemaal.</p>	 <p>Ik begrijp het redelijk. Ik wil nog wel vaker oefenen.</p>	 <p>Ik ken de relaties tussen kommagetallen, breuken, % en verhoudingen zijn.</p>
--	---	--

