

WIE IS DE
MOL?

meets

GEFLIPT?!

spel 7



Zo speel je het:
Kijk eerst de
uitlegvideo!

BENODIGDHEDEN:

Werkbladen :

witte
a4'tjes

Tijdsindicatie:



20 min

Maak een keuze uit
kraak de code:

Moeilijkheidsgraad



makkelijk

Moeilijkheidsgraad




medium

Moeilijkheidsgraad



moeilijk



BELANGRIJKSTE DOEL:

taakaanpak
Ik maak een plan van aanpak voor een klein project.



Moeilijkheidsgraad



makkelijk

KRAAAK

de

CODE

Antwoord:

het is carnavaal



/benjegeflipt

Volg je me al op Instagram en Youtube?





11

$$10 + 3 =$$

$$13 = h$$

$$7 = a$$

$$14 = g$$



12

$$18 - 10 =$$

$$10 = d$$

$$8 = e$$

$$17 = f$$



13

$$13 - 1 =$$

$$14 = b$$

$$3 = o$$

$$12 = t$$



14

$$17 - 10 =$$

$$7 = i$$

$$10 = n$$

$$16 = m$$



15

$$20 - 10 =$$

$$0 = p$$

$$10 = s$$

$$2 = h$$



16

$$10 + 5 =$$

$$6 = d$$

$$14 = a$$

$$15 = c$$



17

$$16 - 3 =$$

$$12 = d$$

$$13 = a$$

$$3 = l$$



18

$$12 + 6 =$$

$$15 = b$$

$$8 = n$$

$$18 = r$$

19



$$11 + 9 =$$

$$20 = n$$

$$19 = u$$

$$10 = w$$

20



$$17 - 5 =$$

$$2 = b$$

$$12 = a$$

$$14 = s$$

21



$$16 - 1 =$$

$$17 = u$$

$$5 = h$$

$$15 = v$$

22



$$14 - 10 =$$

$$4 = a$$

$$13 = v$$

$$5 = r$$



23

$$10 + 7 =$$

$$8 = t$$

$$7 = k$$

$$17 = l$$



24

$$20 - 0 =$$

$$0 = ?$$

$$20 = !$$

$$10 = .$$

Moeilijkheidsgraad



medium

KRAAK

de

CODE

Antwoord:

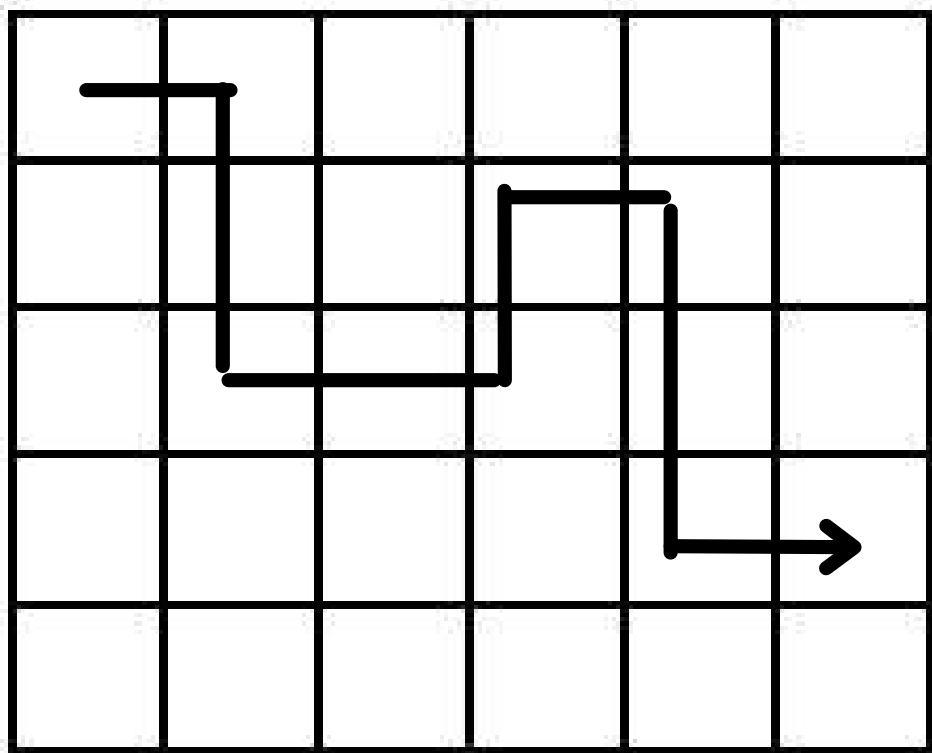
formulering, archeoloog
& vannacht



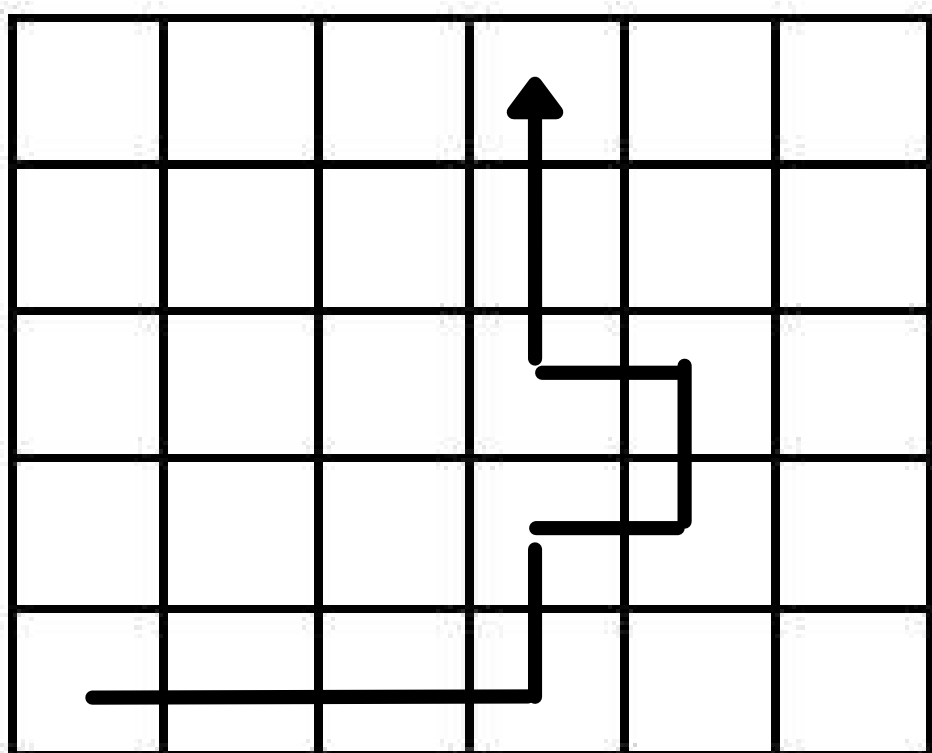
/benjegeflipt

Volg je me al op Instagram en Youtube?

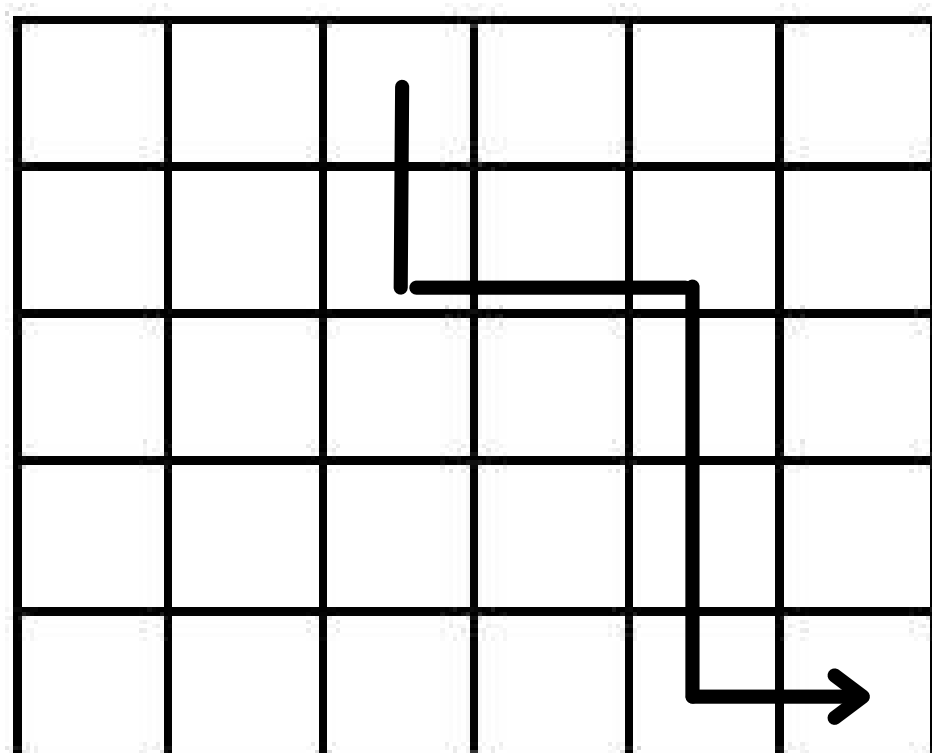




| | | | | | |
|---|---|---|---|---|---|
| F | O | V | K | R | N |
| M | R | I | E | R | I |
| R | M | U | L | I | G |
| V | U | G | Y | N | G |
| B | E | N | N | A | B |



| | | | | | |
|---|---|---|---|---|---|
| F | S | S | G | I | E |
| M | O | C | O | I | I |
| R | E | H | O | L | G |
| V | S | C | E | O | G |
| A | R | C | H | A | B |



| | | | | | |
|---|---|---|---|---|---|
| T | G | V | N | B | H |
| H | N | A | N | N | C |
| R | E | H | O | A | S |
| V | S | C | E | C | C |
| A | R | C | H | H | T |

Moeilijkheidsgraad



moeilijk

KRAAK

de

CODE

Kies er 1 uit

Antwoord:

175, 560132



/benjegeflipt

Volg je me al op Instagram en Youtube?





Kraak de code



4 7 9

1 cijfer is goed en staat op de goede plaats.

4 9 8

Alle cijfers kloppen niet.


3 8 7

1 cijfer is goed, maar staat op de verkeerde plaats.

5 8 1

2 cijfers zijn goed, maar staan op de verkeerde plaats.

Code



**A****B****C****D****E****F**

Zoek de zescijferige code met behulp van onderstaande aanwijzingen. De cijfers kunnen variëren van 0 t/m 6. Er komt dus nooit een 7, 8 of 9 in de code voor. Schrap op de buttons A-F de cijfers die afvallen tot de juiste oplossing overblijft.

$$A + C = 5$$

$$B - D = 5$$

$$B + C = 6$$

$$E \times F = 6$$

$$B - E = 3$$

$$A + D = 6$$



/benjegeflipt

GEFLIPT?!

Volg je me al op Instagram en Youtube?

Beloningen



WIE IS DE
MOL?

GEFLIPT?!



/benjegeflipt

Volg je me al op Instagram en Youtube? Vind ik gezellig!

Beloningen



GEFLIPT?!



/benjegeflipt

Volg je me al op Instagram en Youtube? Vind ik gezellig!

Beloningen



GEFLIPT?!



/benjegeflipt

Volg je me al op Instagram en Youtube? Vind ik gezellig!



LEUKE DINGEN DOEN met je POEN



Ei challenge

Techniekles! Laat een rauw ei uit het raam vallen zonder dat hij kapot gaat.

€1000



€500



EXTRA TEKENLES
Maak deze fantastische struis vogels.

€1000



KIES JE PLEK

Een hele ochtend zelf kiezen waar en naast wie je zit.



/benjegeflipt

Volg je me al op Instagram en Youtube? Vind ik gezellig!

Beloningen



GEFLIPT?!



/benjegeflipt

Volg je me al op Instagram en Youtube? Vind ik gezellig!

Leerdoelen

METEN EN MEETKUNDE

Kerdoel 32 & 33

NATUUR EN TECHNIEK

Kerdoel 44 & 45



/benjegeflipt

Volg je me al op Instagram en Youtube? Vind ik gezellig!

GEFLIPT?!